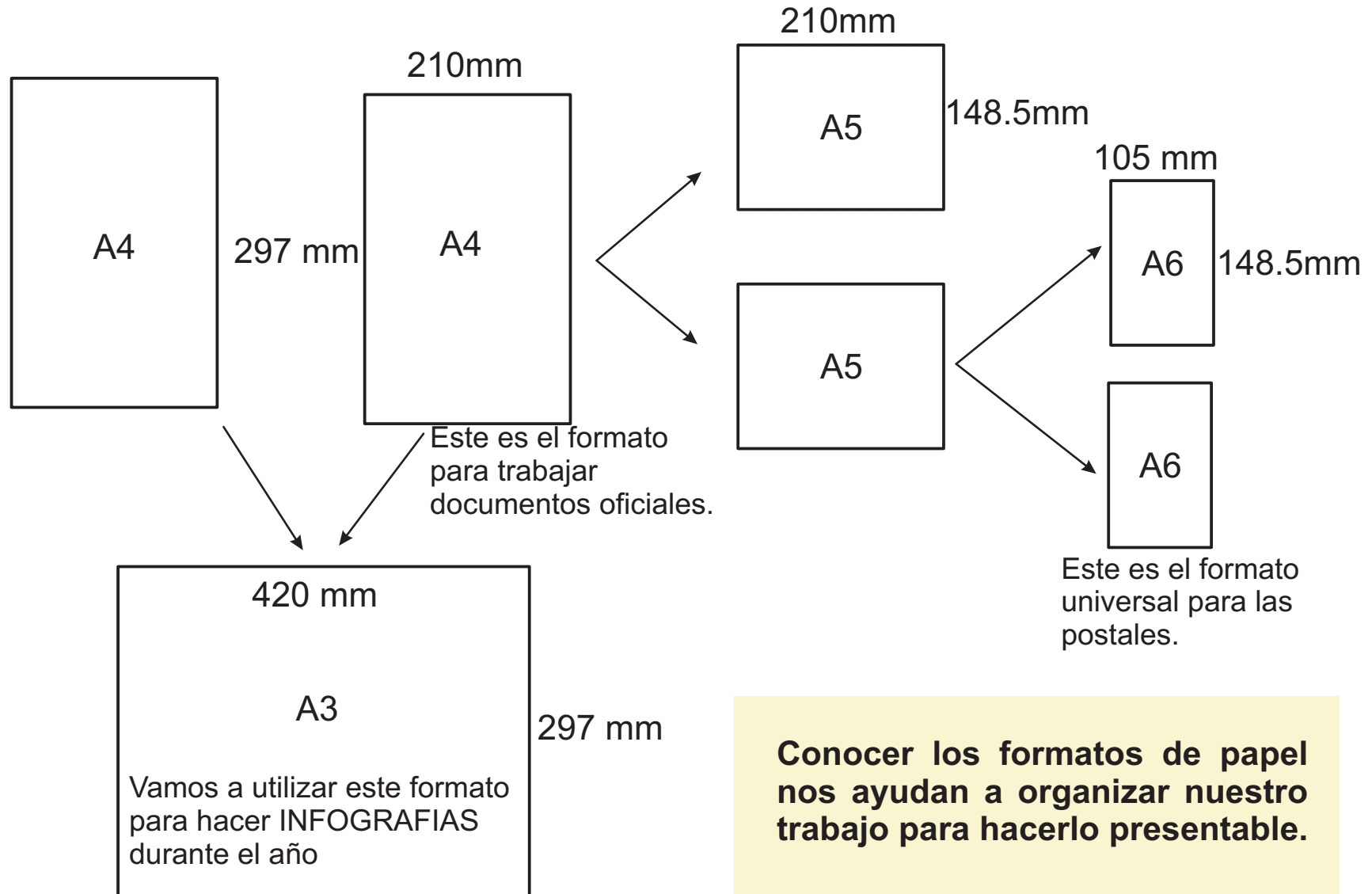


LOS FORMATOS DE PAPEL

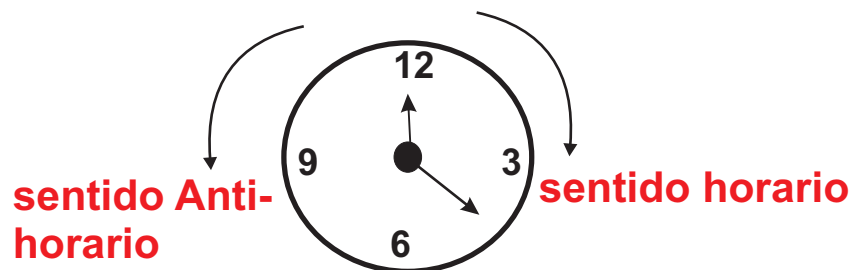
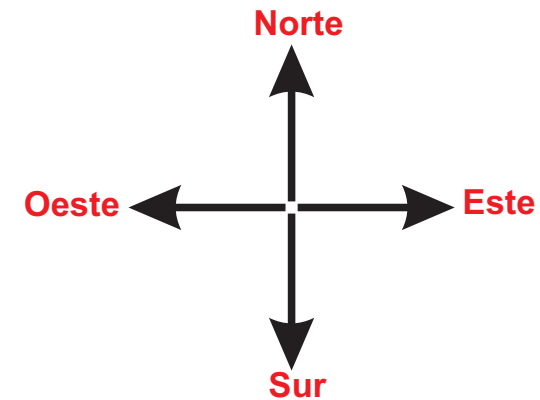
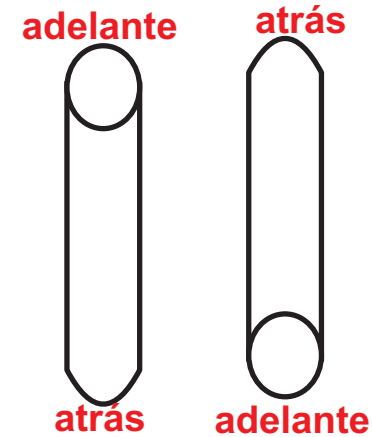
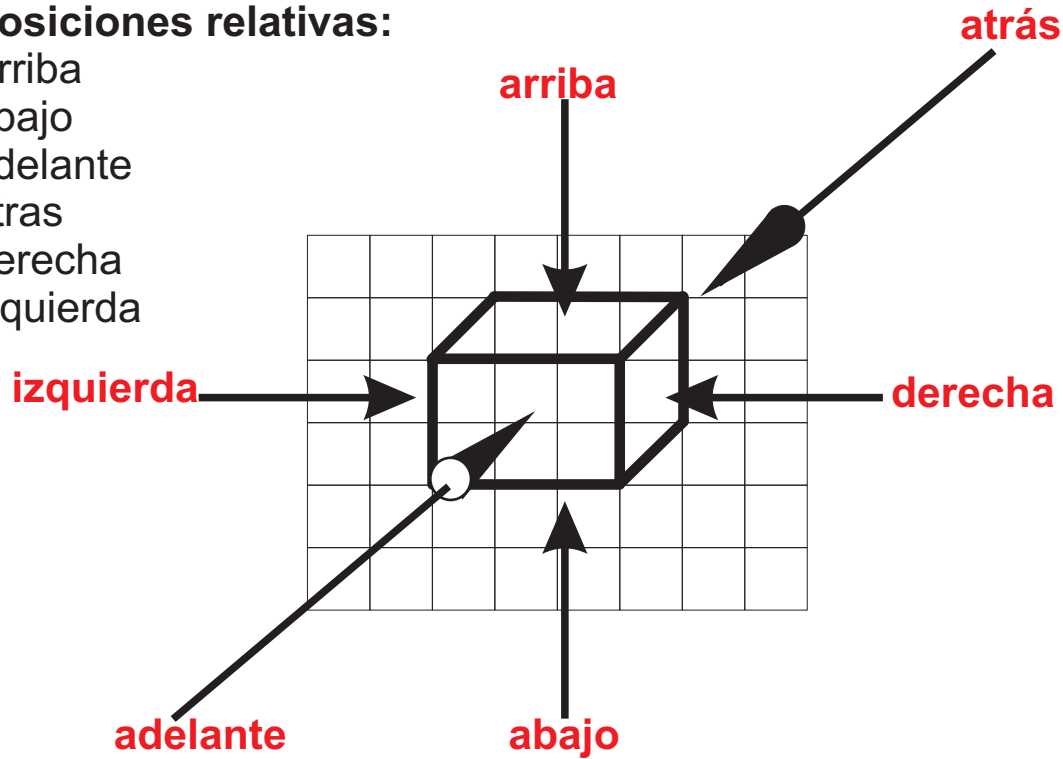


De un A4 salen 2 A5, de 1A5 salen dos A6
De un A3 salen dos A4

CONCEPTOS DE BASE

Posiciones relativas:

Arriba
abajo
adelante
atras
derecha
izquierda



Tenemos que saber orientarnos porque la Lógica matemática y las ciencias en general se expresan en función de posiciones fijadas por normas y convenciones a nivel universal. Muchas veces la simbología es de mucha utilidad.

PROBLEMITAS

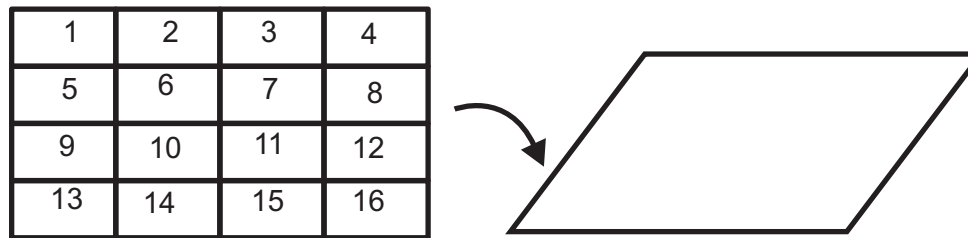
1.- ¿Qué cifra esta a la derecha del 5?
46589

Rpta: el 8

2.- Suma la cifra de la izquierda, con la cifra que esta a la derecha del 6

Rpta: $4 + 5 = 9$

3.- Tienes una hoja A6, como se muestra en la figura, en la que se han escrito los números del 1 al 16 y volteada de arriba hacia abajo sobre tu mesa de trabajo.



(observa que al voltear el papel, el 16 ahora queda a la izquierda y hacia abajo).

El problema es. ¿Qué número queda a la vista si ahora hacemos los siguientes dobleces al papel:

primero lo doblas hacia arriba por la mitad.
luego lo doblas hacia la derecha por la mitad
ahora de nuevo hacia arriba
y por último, hacia la izquierda.

el número que queda visible es: _____

Atrévete a resolverlo! tu puedes.